

© International Baccalaureate Organization 2023

All rights reserved. No part of this product may be reproduced in any form or by any electronic or mechanical means, including information storage and retrieval systems, without the prior written permission from the IB. Additionally, the license tied with this product prohibits use of any selected files or extracts from this product. Use by third parties, including but not limited to publishers, private teachers, tutoring or study services, preparatory schools, vendors operating curriculum mapping services or teacher resource digital platforms and app developers, whether fee-covered or not, is prohibited and is a criminal offense.

More information on how to request written permission in the form of a license can be obtained from <https://ibo.org/become-an-ib-school/ib-publishing/licensing/applying-for-a-license/>.

© Organisation du Baccalauréat International 2023

Tous droits réservés. Aucune partie de ce produit ne peut être reproduite sous quelque forme ni par quelque moyen que ce soit, électronique ou mécanique, y compris des systèmes de stockage et de récupération d'informations, sans l'autorisation écrite préalable de l'IB. De plus, la licence associée à ce produit interdit toute utilisation de tout fichier ou extrait sélectionné dans ce produit. L'utilisation par des tiers, y compris, sans toutefois s'y limiter, des éditeurs, des professeurs particuliers, des services de tutorat ou d'aide aux études, des établissements de préparation à l'enseignement supérieur, des fournisseurs de services de planification des programmes d'études, des gestionnaires de plateformes pédagogiques en ligne, et des développeurs d'applications, moyennant paiement ou non, est interdite et constitue une infraction pénale.

Pour plus d'informations sur la procédure à suivre pour obtenir une autorisation écrite sous la forme d'une licence, rendez-vous à l'adresse <https://ibo.org/become-an-ib-school/ib-publishing/licensing/applying-for-a-license/>.

© Organización del Bachillerato Internacional, 2023

Todos los derechos reservados. No se podrá reproducir ninguna parte de este producto de ninguna forma ni por ningún medio electrónico o mecánico, incluidos los sistemas de almacenamiento y recuperación de información, sin la previa autorización por escrito del IB. Además, la licencia vinculada a este producto prohíbe el uso de todo archivo o fragmento seleccionado de este producto. El uso por parte de terceros —lo que incluye, a título enunciativo, editoriales, profesores particulares, servicios de apoyo académico o ayuda para el estudio, colegios preparatorios, desarrolladores de aplicaciones y entidades que presten servicios de planificación curricular u ofrezcan recursos para docentes mediante plataformas digitales—, ya sea incluido en tasas o no, está prohibido y constituye un delito.

En este enlace encontrará más información sobre cómo solicitar una autorización por escrito en forma de licencia: <https://ibo.org/become-an-ib-school/ib-publishing/licensing/applying-for-a-license/>.

Mathématiques : analyse et approches

Niveau moyen

Épreuve 2

9 mai 2023

Zone A après-midi | Zone B matin | Zone C après-midi

Numéro de session du candidat

1 heure 30 minutes

--	--	--	--	--	--	--	--	--	--

Instructions destinées aux candidats

- Écrivez votre numéro de session dans les cases ci-dessus.
- N'ouvrez pas cette épreuve avant d'y être autorisé(e).
- Une calculatrice à écran graphique est nécessaire pour cette épreuve.
- Section A : répondez à toutes les questions. Rédigez vos réponses dans les cases prévues à cet effet.
- Section B : répondez à toutes les questions sur le livret de réponses prévu à cet effet. Écrivez votre numéro de session sur la première page du livret de réponses, et attachez ce livret à cette épreuve d'examen et à votre page de couverture en utilisant l'attache fournie.
- Sauf indication contraire dans l'intitulé de la question, toutes les réponses numériques devront être exactes ou correctes à trois chiffres significatifs près.
- Un exemplaire non annoté du **livret de formules pour les cours de mathématiques : analyse et approches** est nécessaire pour cette épreuve.
- Le nombre maximum de points pour cette épreuve d'examen est de **[80 points]**.



Le total des points ne sera pas nécessairement attribué pour une réponse correcte si le raisonnement n'a pas été indiqué. Les réponses doivent être appuyées par un raisonnement et/ou des explications. Les solutions obtenues à l'aide d'une calculatrice à écran graphique doivent être accompagnées d'un raisonnement adéquat. Par exemple, si des représentations graphiques sont utilisées pour trouver la solution, veuillez inclure une esquisse de ces représentations graphiques dans votre réponse. Lorsque la réponse est fautive, certains points peuvent être attribués si la méthode utilisée est correcte, pour autant que le raisonnement soit indiqué par écrit. On vous recommande donc de montrer tout votre raisonnement.

Section A

Répondez à **toutes** les questions. Rédigez vos réponses dans les cases prévues à cet effet. Si cela est nécessaire, vous pouvez poursuivre votre raisonnement en dessous des lignes.

1. [Note maximale : 5]

Un botaniste mène une expérience qui étudie la croissance des plantes.

Les hauteurs des plantes sont mesurées lors de sept jours différents.

Le tableau suivant indique le nombre de jours, d , écoulés depuis le début de l'expérience et la hauteur moyenne, h cm, des plantes à chacun de ces jours.

Nombre de jours (d)	2	5	13	24	33	37	42
Hauteur moyenne (h)	10	16	30	59	76	79	82

(a) La droite de régression de h en fonction de d pour ces données peut être écrite sous la forme $h = ad + b$.

Trouvez la valeur de a et la valeur de b . [2]

(b) Écrivez la valeur du coefficient de corrélation de Pearson, r . [1]

(c) Utilisez votre droite de régression pour estimer la hauteur moyenne des plantes lorsqu'il y a 20 jours se sont écoulés depuis le début de l'expérience. [2]

.....

.....

.....

.....

.....

.....

.....

.....

.....

.....

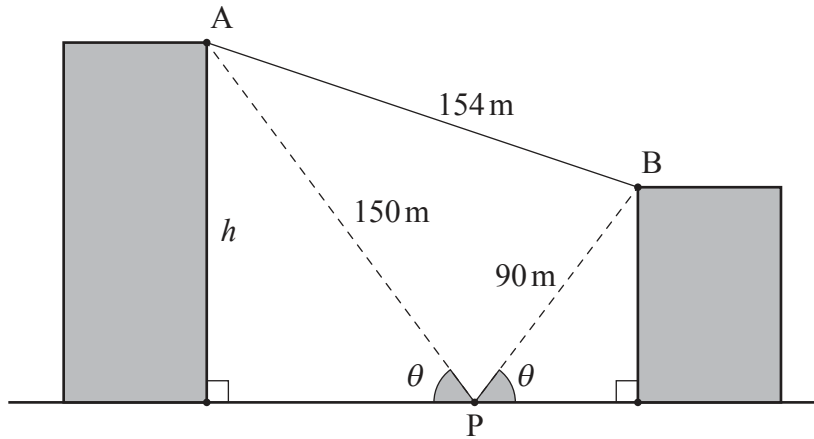


2. [Note maximale : 6]

Le diagramme suivant montre deux bâtiments situés sur un terrain plat.

À partir du point P situé au niveau du sol entre les deux bâtiments, l'angle d'élevation au sommet de chaque bâtiment est θ .

la figure n'est pas à l'échelle



La distance du point P au point A situé au sommet du plus grand bâtiment, est de 150 mètres.

La distance du point P au point B situé au sommet du plus petit bâtiment, est de 90 mètres.

La distance entre A et B est 154 mètres.

- (a) Trouvez la mesure de $\hat{A}PB$. [3]
- (b) Trouvez la hauteur, h , du plus grand bâtiment. [3]

.....

.....

.....

.....

.....

.....

.....

.....

.....

.....

.....

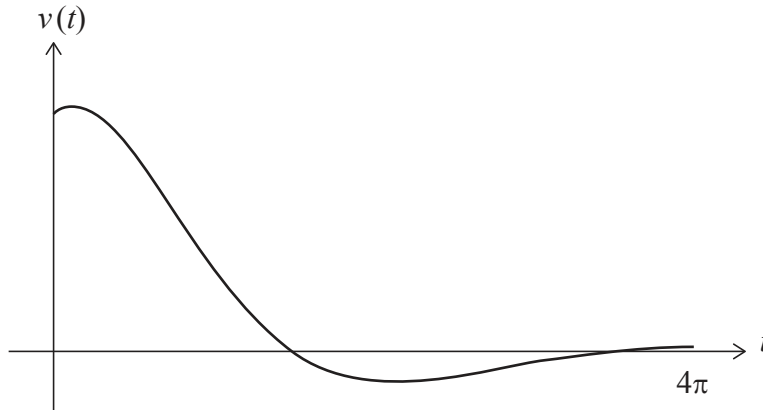


Tournez la page

6. [Note maximale : 6]

Une particule se déplace en ligne droite de sorte que sa vitesse, $v \text{ m s}^{-1}$, au temps t secondes est donnée par $v(t) = 4e^{-\frac{t}{3}} \cos\left(\frac{t}{2} - \frac{\pi}{4}\right)$, pour $0 \leq t \leq 4\pi$.

La représentation graphique de v est illustrée dans le diagramme suivant.



Soit t_1 le premier instant où l'**accélération** de la particule est nulle.

(a) Trouvez la valeur de t_1 . [2]

Soit t_2 le **deuxième** instant où la particule est au repos.

(b) Trouvez la valeur de t_2 . [2]

(c) Trouvez la distance parcourue par la particule entre $t = t_1$ et $t = t_2$. [2]

.....

.....

.....

.....

.....

.....

.....

.....

.....

.....

.....



Veillez ne **pas** écrire sur cette page.
Les réponses rédigées sur cette page
ne seront pas corrigées.



12EP08

N'écrivez **pas** vos solutions sur cette page.

Section B

Répondez à **toutes** les questions sur le livret de réponses fourni. Veuillez répondre à chaque question sur une nouvelle page.

7. [Note maximale : 15]

Considérez la fonction $h(x) = \sqrt{4x-2}$, pour $x \geq \frac{1}{2}$.

- (a) (i) Trouvez $h^{-1}(x)$, la fonction réciproque de $h(x)$, et indiquez son domaine. [5]
(ii) Écrivez l'image de $h^{-1}(x)$. [5]
- (b) La représentation graphique de h croise la représentation graphique de h^{-1} en deux points. [3]
Trouvez les abscisses de ces deux points. [3]
- (c) Trouvez l'aire délimitée par la représentation graphique de h et la représentation graphique de h^{-1} . [2]
- (d) Trouvez $h'(x)$. [2]
- (e) Trouvez la valeur de x pour laquelle la représentation graphique de h et la représentation graphique de h^{-1} ont la même pente. [3]

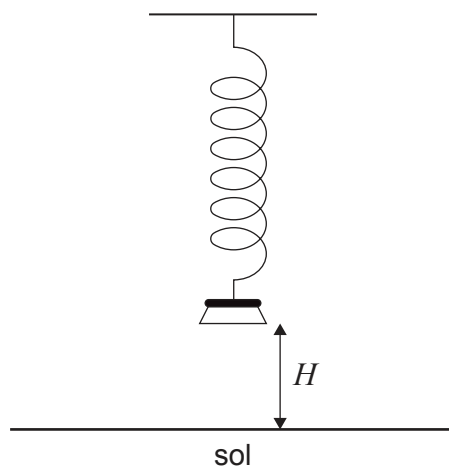


N'écrivez **pas** vos solutions sur cette page.

8. [Note maximale : 13]

Un poids suspendu à un ressort est tiré vers le bas et relâché, de sorte qu'il monte et descende verticalement.

La hauteur, H mètres, de la base du poids au-dessus du sol peut être modélisée par la fonction $H(t) = a \cos(7,8t) + b$, pour $a, b \in \mathbb{R}$ et $0 \leq t \leq 10$, où t est le temps en secondes après que le poids a été relâché.



(a) Trouvez la période de la fonction.

[2]

(Suite de la question à la page suivante)

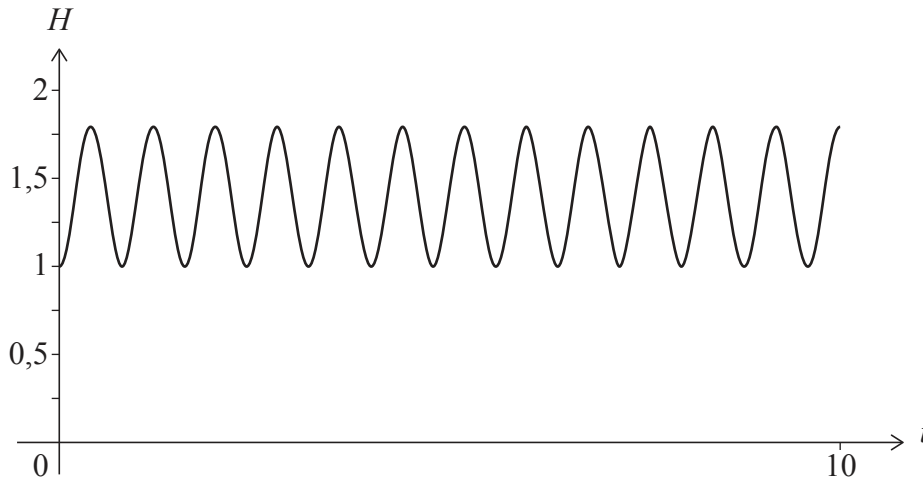


12EP10

N'écrivez **pas** vos solutions sur cette page.

(Suite de la question 8)

Le poids est relâché lorsque sa base est à une hauteur minimale de 1 mètre au-dessus du sol, et il atteint une hauteur maximale de 1,8 mètres au-dessus du sol. La représentation graphique de H est montrée dans le diagramme suivant.



- (b) Trouvez la valeur de
 - (i) a ;
 - (ii) b . [3]
 - (c) Trouvez le nombre de fois que le poids atteint sa hauteur maximale au cours des cinq premières secondes de son mouvement. [2]
 - (d) Trouvez la première fois que la base du poids atteint une hauteur de 1,5 mètres. [2]
- Une caméra est réglée pour prendre une photo du poids à un instant aléatoire au cours des cinq premières secondes de son mouvement.
- (e) Trouvez la probabilité que la hauteur de la base du poids soit supérieure à 1,5 mètres à l'instant où la photo est prise. [4]



12EP11

Tournez la page

N'écrivez **pas** vos solutions sur cette page.

9. [Note maximale : 15]

Un sac contient n boules. On sait que dix des boules sont vertes et que le reste des boules sont rouges. Des boules sont tirées du sac, l'une après l'autre, sans remise.

- (a) Trouvez, en fonction de n , la probabilité que
- (i) la première boule tirée soit verte ;
 - (ii) les deux premières boules tirées soient vertes. [3]

Pour les parties suivantes de cette question, soit $n = 25$.

- (b) Montrez que la probabilité que les deux premières boules tirées soient rouges est de 0,35. [2]
- (c) Trouvez la probabilité que les trois premières boules tirées soient toutes rouges. [2]
- (d) Trouvez la probabilité qu'au moins une des trois premières boules tirées soit verte. [2]

Un jeu consiste à tirer **quatre** boules, l'une après l'autre et sans remise, du sac contenant 25 boules. Un joueur obtient des points en fonction du tirage auquel la première boule verte est tirée. À la fin de chaque partie, les quatre boules sont remises dans le sac.

Un joueur obtient zéro point si aucune boule verte n'est tirée ou si la première boule verte est tirée au premier ou au deuxième tirage.

Un joueur obtient 10 points si la première boule verte est tirée au troisième tirage et obtient 50 points si la première boule verte est tirée au quatrième tirage.

Millie joue à ce jeu k fois. Elle trouve son score en additionnant ses points obtenus à chaque partie.

- (e) Trouvez la plus petite valeur de k telle que le score espéré de Millie soit supérieur à 100. [6]

Références :

© Organisation du Baccalauréat International 2023



12EP12